

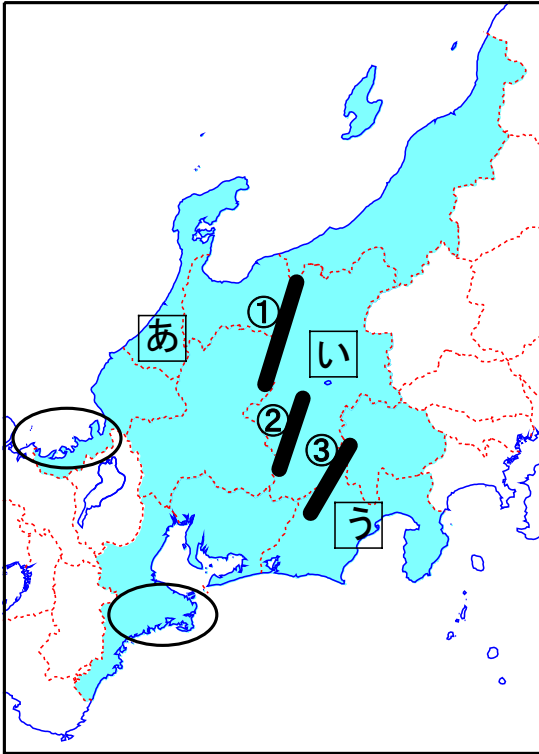
# 2022年度 入学試験問題

# 社 会 C

## 注 意 事 項

1. 試験開始の合図があるまで、この問題冊子の中を見てはいけません。
2. 試験時間は30分間です。
3. 問題は①～③までです。
4. 解答はすべて解答用紙に書きなさい。
5. 解答用紙に受験番号、氏名を書きなさい。

1 地図と表を見て、各問いに答えなさい。



統計:2019年

	人口 (万人)	米の生産量 (千t)	農業産出額 (億円)	工業製品出荷額 (億円)
A	755	134	2949	489829
B	364	74	1979	176639
C	222	667	2494	51212
D	205	193	2556	65287
岐阜	199	105	1066	59674
E	178	130	1106	112597
石川	114	131	551	31841

「日本国勢図会 2021/22」より作成

問1 都道府県を8つの地方に分けると、中部地方は9県で構成されます。地図上に着色された10県のうち、中部地方にはふくまれない県を1つ選び、漢字で答えなさい。

問2 地図中の地域の自然環境について、(1)～(4)の問いに答えなさい。

(1) この地域には流れていない河川の組み合わせを、**ア～エ**の中から1つ選び、記号で答えなさい。

**ア** 信濃川・神通川・阿賀野川

**イ** 木曾川・天竜川・大井川

**ウ** 最上川・米代川・北上川

**エ** 富士川・揖斐川・長良川

(2) 地図中の①～③の山脈は、日本アルプスとよばれる山脈です。①～③にあてはまる山脈について、正しい組み合わせを**ア～カ**の中から1つ選び、記号で答えなさい。

**ア** ①木曾山脈 ②赤石山脈 ③飛驒山脈

**イ** ①木曾山脈 ②飛驒山脈 ③赤石山脈

**ウ** ①赤石山脈 ②木曾山脈 ③飛驒山脈

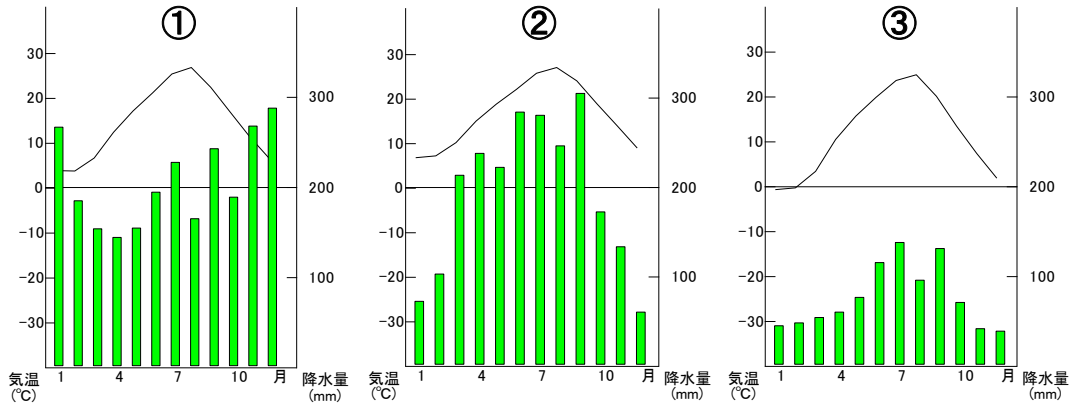
**エ** ①赤石山脈 ②飛驒山脈 ③木曾山脈

**オ** ①飛驒山脈 ②木曾山脈 ③赤石山脈

**カ** ①飛驒山脈 ②赤石山脈 ③木曾山脈

(3) 地図中の○で囲まれた地域は、入り江や湾など出入りのはげしい複雑な海岸線が共通して見られます。このような海岸線の地形を何といいますか。

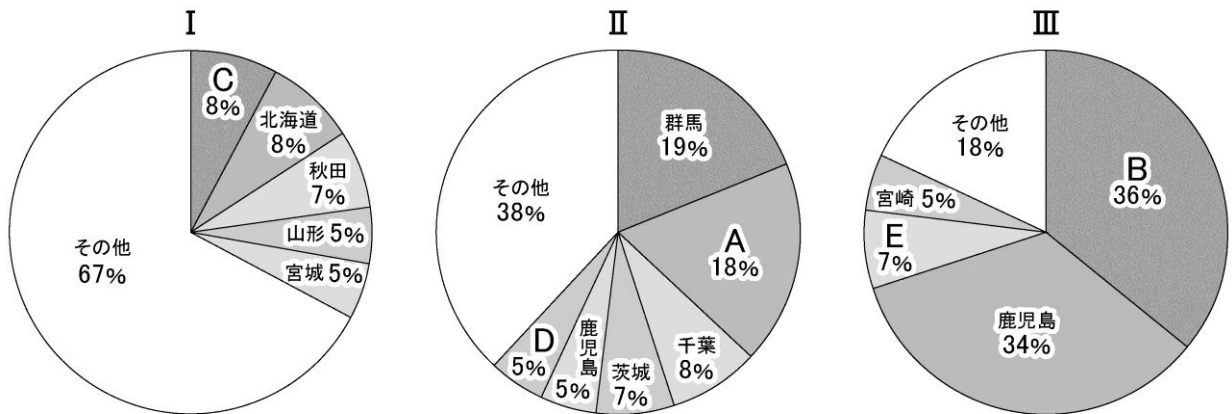
(4) 次の気温と降水量のグラフ①～③にあてはまる都市は、地図中のあ～うのいずれかの県庁所在地です。地図中のあ～うにあてはまるグラフの組み合わせを、ア～カの中から1つ選び、記号で答えなさい。



ア	①	あ	②	い	③	う
イ	①	あ	②	う	③	い
ウ	①	い	②	あ	③	う
エ	①	い	②	う	③	あ
オ	①	う	②	あ	③	い
カ	①	う	②	い	③	あ

問3 地図中の地域で行われている農業について、(1)～(3)の問いに答えなさい。

(1) 次のグラフは、2019年または2020年のある農作物の都道府県別生産量の割合を示しています。Ⅰ～Ⅲのグラフをみて、それぞれのグラフにあてはまる農作物の組み合わせとして正しいものを、ア～エの中から1つ選び、記号で答えなさい。(グラフ中のA～Eは、表中のA～Eの県と一致しています。)



2019年(Ⅱ) 2020年(Ⅰ・Ⅲ) 「日本国勢図会 2020/21」より作成

ア	Ⅰ	じゃがいも	Ⅱ	たまねぎ	Ⅲ	みかん
イ	Ⅰ	大根	Ⅱ	なす	Ⅲ	にんじん
ウ	Ⅰ	小麦	Ⅱ	ぶどう	Ⅲ	ピーマン
エ	Ⅰ	米	Ⅱ	キャベツ	Ⅲ	茶

(2) グラフ中の**C**にあてはまる県名を答えなさい。

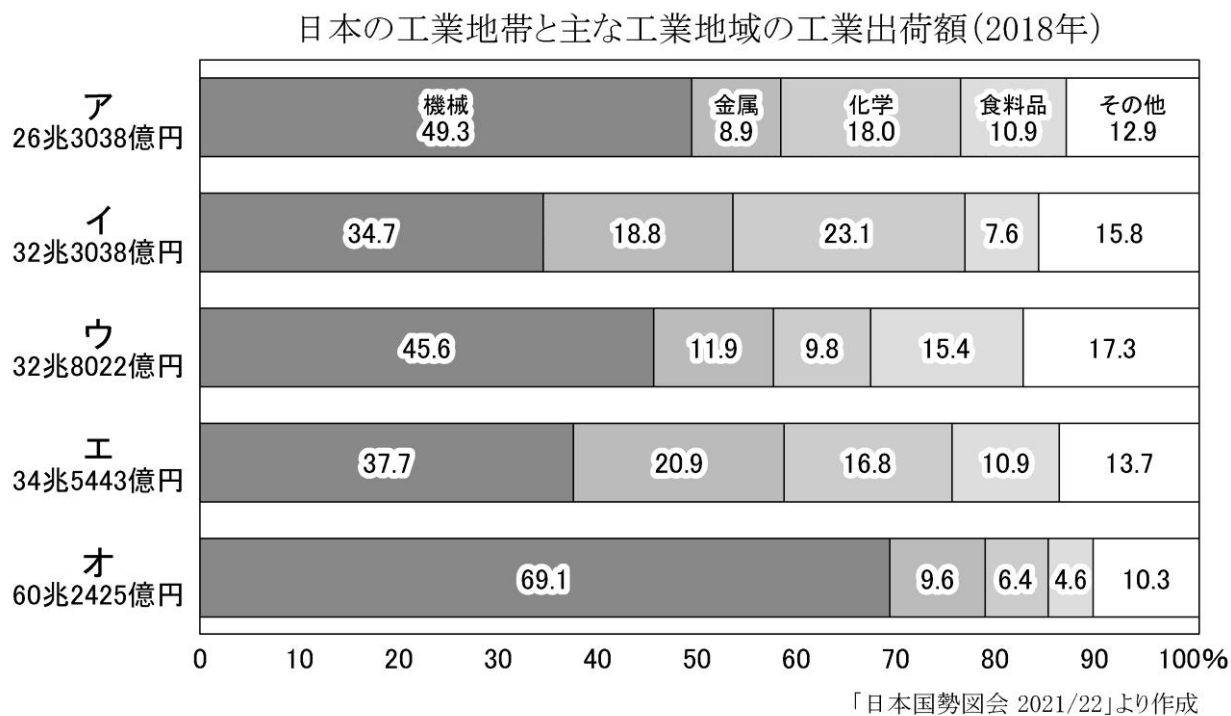
(3) 地図中の**い**の県で行われている農業の特色について述べた次の文中には、誤りがあります。

下線部①～④の中で、語句が誤っている番号を①～④の中から1つ選び、さらに正しい語句を答えなさい。

**い**には多くの盆地があり、かつては①**養蚕**のための桑畑が広がっていました。近年は、日当たりや水はけのよさをいかして、②**果樹栽培**がさかんです。また、野辺山原など標高 1000mをこえる高原では、涼しい気候に適した③**促成栽培**がさかんに行われています。他の産地の野菜の出荷量が少なくなる④**夏の時期**を中心に、高原野菜を出荷しています。

問4 地図中の地域で行われている工業について、(1)～(2)の問いに答えなさい。

(1) 日本の工業地帯とおもな工業地域の工業出荷額(2018年)のグラフをみて、**中京工業地帯**にあてはまるグラフを、**ア～オ**の中から1つ選び、記号で答えなさい。



(2) グラフをみると、日本の工業がさかんな地域では、機械工業の割合が最も高くなっています。特に、中京工業地帯の中では、どのような機械を作っていますか。次の**ア～オ**の中から1つ選び、記号で答えなさい。

**ア** テレビ    **イ** 自動車    **ウ** 航空機    **エ** 携帯電話    **オ** 楽器

問5 コロナ禍において、機械製品には欠かせないある材料の不足が話題になっています。「家庭用ゲーム機」という語句を必ず用いて、不足している材料が何かを明らかにしながら、不足している理由について説明しなさい。

2 次の年表を見て、各問いに答えなさい。

年代	できごと
57年	倭の奴国王が後漢の皇帝から〔 A 〕をさずけられる
239年	① <u>邪馬台国の女王卑弥呼</u> が中国に使いを送る
607年	小野妹子が〔 B 〕として派遣される
630年	第1回の② <u>遣唐使</u> が派遣される
753年	唐僧の〔 C 〕が来日し、戒律 <small>かいりつ</small> を伝える
894年	〔 D 〕の進言で遣唐使が停止される
1167年	③ <u>平清盛</u> が武士として初めて太政大臣となる
1271年	④ <u>フビライ=ハン</u> が国号を元と改める
1404年	足利義満が〔 E 〕貿易を始める
1543年	種子島に流れ着いたポルトガル人から〔 F 〕が伝わる
1603年	⑤ <u>徳川家康</u> が征夷大將軍に任命される
1641年	オランダ商館が出島に移され〔 G 〕が完成する
1854年	江戸幕府とペリーの間で⑥ <u>日米和親条約</u> が結ばれる
1914年	サラエボ事件をきっかけに〔 H 〕が始まる
1972年	〔 I 〕が発表され日本と中国の国交が正常化する

問1 空らん〔 A 〕～〔 I 〕に入る語句を漢字で答えなさい。

問2 下線部①の記事がある中国の歴史書は何ですか。ア～エの中から1つ選び、記号で答えなさい。

ア『魏志』倭人伝    イ『漢書』地理志    ウ『後漢書』東夷伝    エ『宋書』倭国伝

問3 下線部②について述べた文の中から正しいものをア～エの中から1つ選び、記号で答えなさい。

ア 天武天皇の時代から派遣が始まり、毎年のように使節が派遣された。

イ 1回に派遣される使節の規模は10人程度と、小規模なものだった。

ウ 使節が訪れた唐の都の長安は、国際都市として繁栄はんえいしていた。

エ 朝廷は唐に対して対等外交を求め、唐の皇帝もそれを公認していた。

問4 下線部③は日宋貿易を推進しました。日宋貿易によって日本の貨幣経済が進展した理由を簡単に説明しなさい。

問5 下線部④のたびかさなる服属要求ふくぞくを拒否した鎌倉幕府の執権はだれですか。正しいものをア～エの中から1つ選び、記号で答えなさい。

ア 北条泰時    イ 北条時宗    ウ 北条時頼    エ 北条時政

問6 下線部⑤が許可状を与えた人びとが行った貿易を何といいますか。正しいものをア～エの中から1つ選び、記号で答えなさい。

ア 三角貿易    イ 南蛮貿易    ウ 加工貿易    エ 朱印船貿易

問7 下線部⑥の開港地はどこですか。正しいものをア～エの中から1つ選び、記号で答えなさい。

ア 長崎    イ 神奈川    ウ 下田    エ 兵庫

**3** 次の文を読んで、各問いに答えなさい。

皆さんは、将来ぜひ購入したいと思っているものはありますか。家、自動車、好きな漫画や、服やバッグ…夢がふくらみますね。

さて、皆さんは、①働いて得たお金や②投資した結果として得たお金などで様々なものを購入するでしょう。「買い物をする」というのは、言い換えると「売買契約を結ぶ」ということです。普段、皆さんがコンビニへ買い物に行ったときには、いちいち契約書を書いて印鑑を押して…なんていうことはしませんね。毎回そのような書面でやり取りをするのは大変ですから、お金を払う～商品を渡す…ということだけで契約を成立させているのです。契約には自由が認められています。これは③憲法 13 条の個人の尊重と、29 条の財産権を根拠にしています。

しかしながら、未成年者による契約の場合は制限を受けます。未熟な人々を不利益から守るためというのが大きな目的です。〔 A (西暦で) 〕年 4 月以降は、成年年齢が引き下げられ、④〔 B 〕歳で成人となります。成人すると、自由に契約ができるようになるなど、自由な側面もたくさんありますが、反面、気を付けていないと大きな損害を受けることもあります。注意していただきたいですね。ちなみに、成年年齢が引き下げられても、⑤国民年金 (基礎年金) への加入義務などについては、これまでと同じ年齢からとなります。

問 1 文中の〔A〕～〔B〕に入る数字を答えなさい。

問 2 下線部①に関連して、(1)～(3)の問いに答えなさい。

(1) 自分が得た収入に対してかかり、国家に直接納める税を何と言いますか。漢字で答えなさい。

(2) 日本では、(1)の税は収入の多い人ほど税率が上がる制度をとっています。この制度を何と言いますか。漢字で答えなさい。

(3) もしも、あなたが働いて得たお金を使って家を購入したとして、家の購入後にその家(土地や建物)にかかる税金は何ですか。次のア～エの中から 1 つ選び、記号で答えなさい。

ア 個人事業税

イ 相続税

ウ 関税

エ 固定資産税

問 3 下線部②について、投資の典型例で、企業が事業を行なうための資金を得るために、人々から資金を出してもらって、会社のオーナーになってもらい、会社の収益があがったときに、場合によっては投資してくれた人々に還元するというしくみの会社があります。この仕組みの会社を何と言いますか。

問 4 下線部③について、次の文は憲法の条文の一部です。文中の〔 C 〕内に入る、「社会全体の利益や国民全体の幸福」を意味する言葉を答えなさい。

憲法第 13 条：すべて国民は、個人として尊重される。生命、自由及び幸福追求に対する国民の権利については、〔 C 〕に反しない限り立法その他の国政の上で、最大の尊重を必要とする。

憲法第 29 条第 2 項：財産権の内容は、〔 C 〕に適合するやうに、法律でこれを定める。

問5 下線部④について、〔B〕歳で成人になった時に、自分自身の判断でできるようになることとして間違っているものを、次のア～エの中から1つ選び、記号で答えなさい。

- ア 結婚することができる
- イ 一人暮らしのための部屋を借りることができる
- ウ 飲酒や喫煙をすることができる
- エ 自動車ローンを組むことができる

問6 下線部⑤に関連して、(1)～(2)の問いに答えなさい。

(1) 通常、国民年金の保険料を支払っていた場合に、年金が給付されるようになる年齢は65歳です。現在の日本の人口における65歳以上の高齢者の割合として最も近いものを、次のア～エの中から1つ選び、記号で答えなさい。

ア 10%      イ 20%      ウ 30%      エ 40%

(2) 現在、日本においては年金の給付などが増え、保険料と税金だけではまかないきれなくなっています。現在、保険料と税金だけで歳入が足りない場合にはどのような政策がとられていますか。説明しなさい。